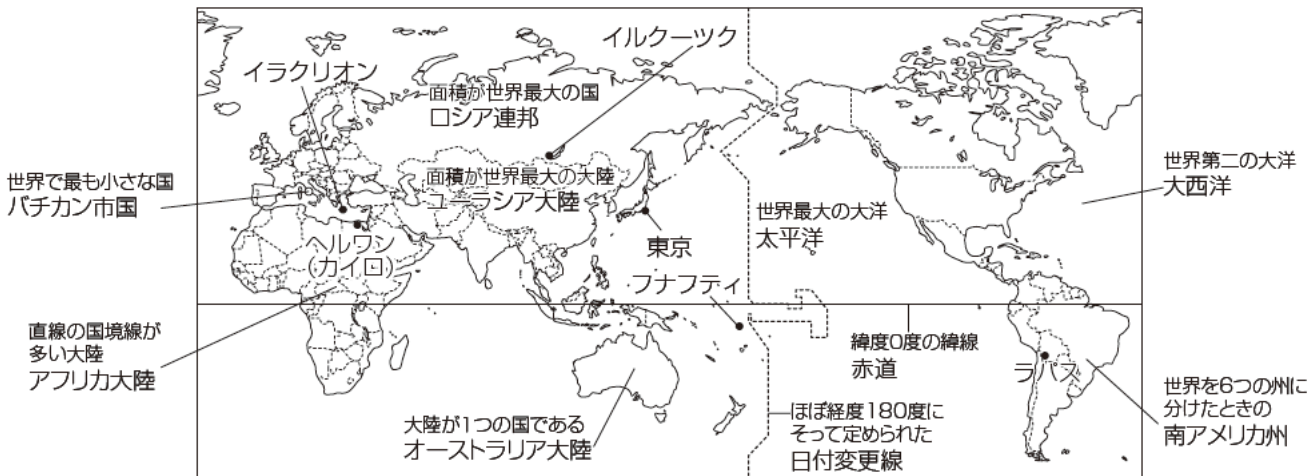


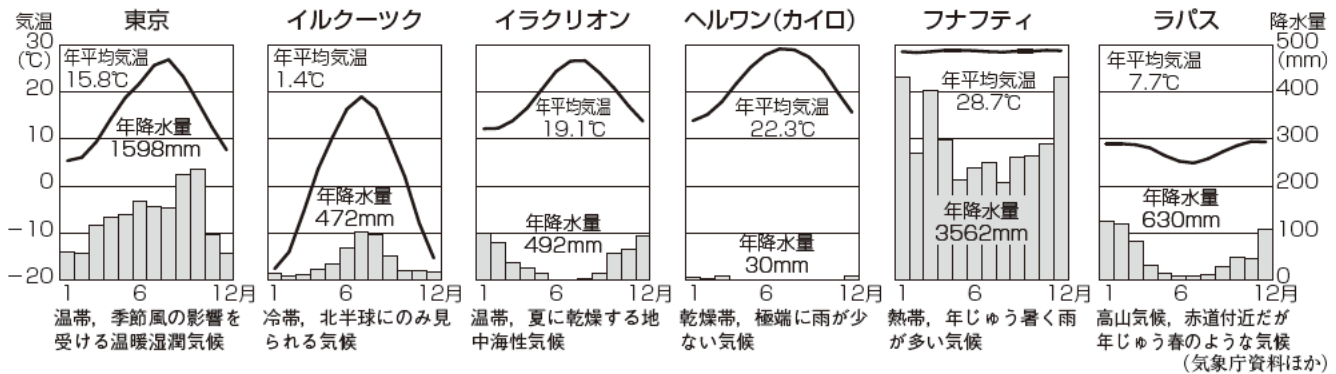
## 1

## 世界地理

## 1 世界のすがた



## 2 世界の気候とくらし



## 3 世界の諸地域

## (1) アジア州

- 東・東南アジア…ヒマラヤ山脈, <sup>キアンホー</sup>黄河・<sup>チャンチアン</sup>長江・メコン川・チャオプラヤ川。季節風(モンスーン)。中国は人口が世界有数, 一人っ子政策, 経済特区。東南アジア諸国連合(ASEAN)を結成。
- 南アジア…インドでヒンドゥー教, カースト制。
- 西・中央アジア…<sup>かんそう</sup>乾燥帯, イスラム教徒が多い。

## (2) ヨーロッパ州

- 自然…アルプス山脈, ライン川・ドナウ川, <sup>へんせいふう</sup>偏西風の影響で高緯度でも温暖。
- EU(ヨーロッパ連合)…1993年に結成。人・物・資本の移動の自由化。共通通貨ユーロ(EURO)の導入。加盟国間の経済格差の解消が課題。

## (3) アフリカ州

- 自然…北部に<sup>さばく</sup>サハラ砂漠, 北東部にナイル川。
- 南アフリカ共和国…アフリカで最も工業化の進んだ国。金やダイヤモンドを多く産出。

## (4) 北アメリカ州

- 自然…西部にロッキー山脈, 中部にミシシッピ川。北部は寒帯や冷帯, 南部は熱帯, 中部は温帯。
- アメリカ合衆国…多民族国家。農業は適地適作で「世界の食料庫」。サンベルトやシリコンバレーでハイテク産業が発達し, <sup>たこくせきぎまう</sup>多国籍企業が多い。メキシコ・カナダと米国・メキシコ・カナダ協定。<sup>[USMCA]</sup>

## (5) 南アメリカ州

- 自然…赤道付近にアマゾン川, 流域にセルバ(熱帯雨林), ラプラタ川流域にパンパ(草原)。西部にアンデス山脈。熱帯林が減少。
- ブラジル…コーヒー豆の生産量世界一。

## (6) オセアニア州

- オセアニア…オーストラリアと太平洋の島々。
- オーストラリア…オーストラリア大陸全体を国とする。先住民のアボリジニ。<sup>ぼくちく</sup>牧畜がさかん。石炭・鉄鉱石などの鉱産資源が豊富。

# 確 認 問 題

## 1 世界のすがた

- ① 地球をそのまま縮めて、ほぼ正確に表すことができるようにしたものを何というか。
- ② 地球上の地点を表すために、南北を90度ずつに分けた線は何か。
- ③ ロンドンを通る経度0度の線を何というか。
- ④ 国が成り立つために必要な条件は、領土、国民と何か。
- ⑤ 日本やニュージーランドのように海に囲まれた国を何というか。

## 2 世界の気候とくらし

- ⑥ 気温が0℃以下の期間が長く、1年の大半を雪や氷におおわれた気候帯を何というか。
- ⑦ 冬は気温が-30℃を下回ることもあり、夏には30℃近くになる日がある気候帯を何というか。
- ⑧ 温帯の中でも地中海の周りなどに広がる気候を何というか。
- ⑨ 砂漠に見られる、地下水がわき出て樹木が育つ地域を何というか。
- ⑩ 熱帯に見られる、うっそうとした森林のことを何というか。
- ⑪ 世界の三大宗教とよばれる宗教のうち、ヨーロッパや南北アメリカ、オーストラリアにおもに広がっている宗教は何か。

## 3 世界の諸地域

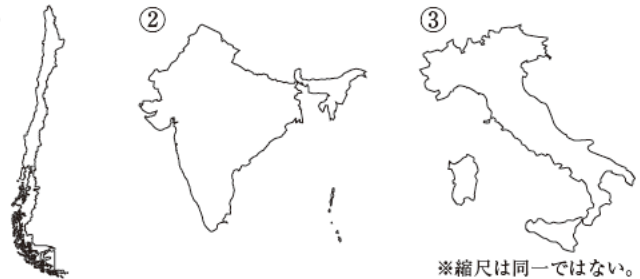
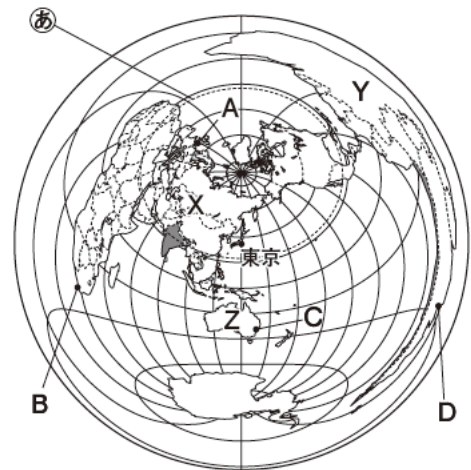
- ⑫ アジア東部の地域の気候に大きな影響をあたえる、季節によって吹く向きが変わる風を何というか。
- ⑬ タイやマレーシア、インドネシアなど東南アジアの国々が加盟する、経済協力をはかるための組織を何というか。
- ⑭ 中国が外国企業受け入れのために沿岸部に設けた地域を何というか。
- ⑮ ヨーロッパの高緯度地域の気候に影響をあたえる1年を通して吹く西風を何というか。
- ⑯ ヨーロッパ北西部や東部に見られる、穀物栽培と家畜の飼育を組み合わせた農業を何というか。
- ⑰ EU加盟国の多くで導入している共通通貨を何というか。
- ⑱ アフリカのほぼ全域は、19世紀末までに、ヨーロッパ諸国の何になっていたか。
- ⑲ アメリカ合衆国の北緯37度以南に広がる、先端技術産業が発達した地域を何というか。
- ⑳ アメリカ合衆国にくらす、スペイン語を話すメキシコや西インド諸島などからの移民のことを何というか。
- ㉑ アマゾン川流域で見られる、木を切りたおして燃やした灰を肥料として作物を栽培する農業を何というか。
- ㉒ オーストラリアの先住民を何というか。
- ㉓ オーストラリアでは、1970年代までヨーロッパ系以外の移民を制限していた。この政策を何というか。

①
②
③
④
⑤
⑥
⑦
⑧
⑨
⑩
⑪
⑫
⑬
⑭
⑮
⑯
⑰
⑱
⑲
⑳
㉑
㉒
㉓

# 練習問題

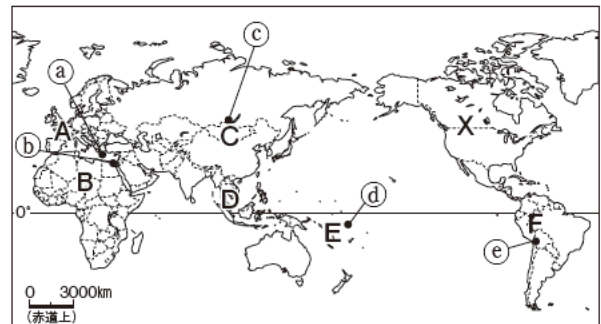
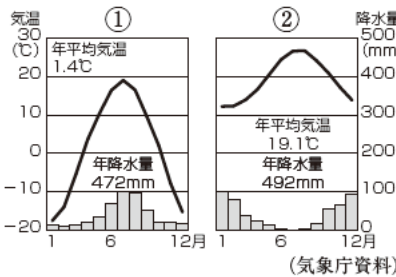
## 1 右の地図を見て、次の問いに答えなさい。

- (1) 地図中のX・Yの大陸名を書け。  
X ( )大陸 Y ( )大陸
- (2) 地図中のZの大陸は、世界を大きく6つの州に分けたとき、何州に属するか。州名を書け。 ( )
- (3) 地図中のA～Dの都市について、次の説明にあてはまるものを1つずつ選び、記号で答えよ。  
①東京から見て、ほぼ真南にある都市。 ( )  
②東京からの距離が、4つの都市のうち、最も遠い都市。 ( )
- (4) 地図中の㊸の線は、北半球で太陽が真上に来る最も高緯度の緯線である。㊸の緯線に太陽が真上に来るときの北半球の季節を、四季で書け。 ( )
- (5) 右に示した①～③は、地図中に■で示した国の形である。それぞれの国名を書け。  
① ( )  
② ( ) ③ ( )



## 2 右の地図を見て、次の問いに答えなさい。

- (1) 右の気温と降水量のグラフは、地図中の㊸～㊼のいずれかの地点のものである。あてはまる地点を1つずつ選び、記号で答えよ。  
① ( )  
② ( )



- (2) 地図中のA～Fの地域について、次の問いに答えよ。  
①次の文のような生活が見られる地域を、地図中のA～Fから1つずつ選び、記号で答えよ。  
㊸ 標高差が1000m以上ある農地をもつ家族がくらす村があり、異なる気候を利用して100種類以上のじゃがいもやとうもろこしを栽培している。 ( )  
㊹ 雨季と乾季があり、低地を流れる川は雨季になると水位が上がり、しばしばはらんすることがある。かつては、高床式の家が多かった。 ( )
- ②右の写真の住居が見られる地域はどこか。地図中のA～Fから最もあてはまるものを1つ選び、記号で答えよ。 ( )



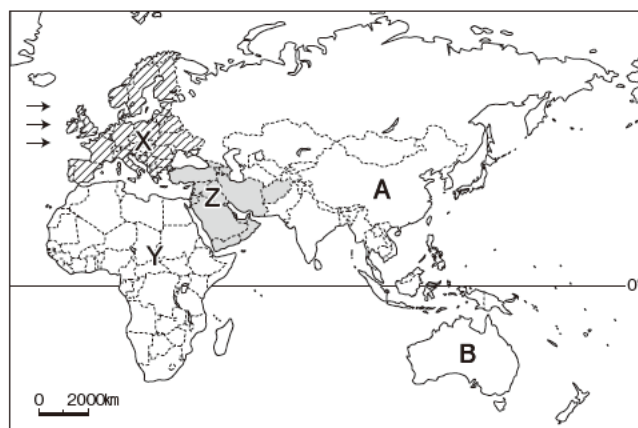
- (3) 地図中のXの大陸について、次の問いに答えよ。  
①この大陸の広い地域で最も多くの人に信仰されている宗教を、次から1つ選べ。 ( )  
〔 イスラム教 キリスト教 ヒンドゥー教 仏教 〕  
②この大陸のおもな食料として最もあてはまるものを、次から1つ選べ。 ( )  
〔 米 とうもろこし 小麦 いも類 〕

3 右の地図を見て、次の問いに答えなさい。

(1) 地図中に→で示した風は、Xの地域の気候にどのような影響をあたえているか。「冬」という語句を用いて簡潔に書け。

( )

(2) Xの地域は、3つの言語に大きく分けることができる。北西部のゲルマン系言語、東部のスラブ系言語、そして、南部で使われているのは、何系言語か。答えよ。( )系言語)



(3) 地図中のYの大陸について、次の問いに答えよ。

① Yの大陸には、直線の国境線が多く見られる。その理由を説明した次の文中の㉔にはあてはまる語句を、㉕にはあてはまる州名を書け。 ㉔( ) ㉕( )  
「かつてこの大陸を㉔としていた㉕の国々の引いた境界線が、今も国境として残っているため。」

② Yの大陸では地下資源が豊富である。そのなかで、ガリウム、コバルトなどの鉱産資源をとくに何というか。( )

(4) 地図中のZの地域の国々が中心となり、石油の輸出国が産出量や輸出量を協定するために組織した機関を何というか。アルファベットの略称で答えよ。( )

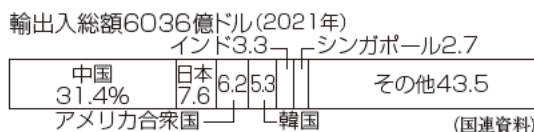
(5) 地図中のA・Bの国について、次の問いに答えよ。

① Aの国は、人口の増加をおさえるための政策を2015年までとっていた。この政策を何というか。

( )

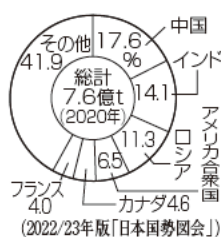
② 右のグラフは、Bの国の貿易相手国の内わけである。B国の貿易相手国にはどのような特徴があるか。簡潔に書け。

( )



4 右の地図を見て、次の問いに答えなさい。

(1) 右のグラフは、地図中のXの地域で栽培がさかんな作物の世界の生産割合である。この作物は何か。( )



(2) 地図中のYの地域は、コンピューターなどのハイテク産業やインターネットに関連した会社が集中していることから、ICの原料にちなんで何とよばれているか。( )

(3) 地図中のZの川の流域で、急速な減少が環境問題となっているものは何か。( )

(4) 地図中のアメリカ合衆国は移民の国家であるが、近年増加しているヒスパニックとよばれる人々はどのような人々か、簡潔に書け。( )

(5) 地図中のブラジルでは、さとうきびなどからつくられる燃料を使って走る自動車(自動車)が普及している。この燃料を何というか。( )

(6) ブラジルで使われているおもな言語としてあてはまるものを、次から1つ選べ。( )

[ 英語      フランス語      スペイン語      ポルトガル語 ]

