

1 世界・日本の地域構成

●世界・日本の地域構成で覚えておきたいポイント

六大陸と三大洋，世界の州と主な国々の特徴

ロシア連邦…面積が世界最大

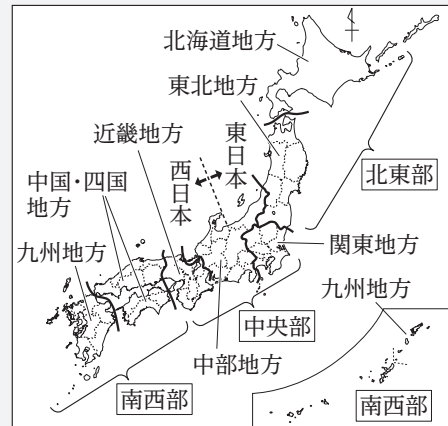
アメリカ合衆国…世界一の経済大国



バチカン市国…面積が世界最小

インド・中国…人口が約14億人(2021年)

日本の地域区分



日本の端…北端：択捉島，東端：南鳥島，南端：沖ノ鳥島，西端：与那国島。

領土問題…北方領土はロシア連邦が，竹島は韓国が不法に占拠。

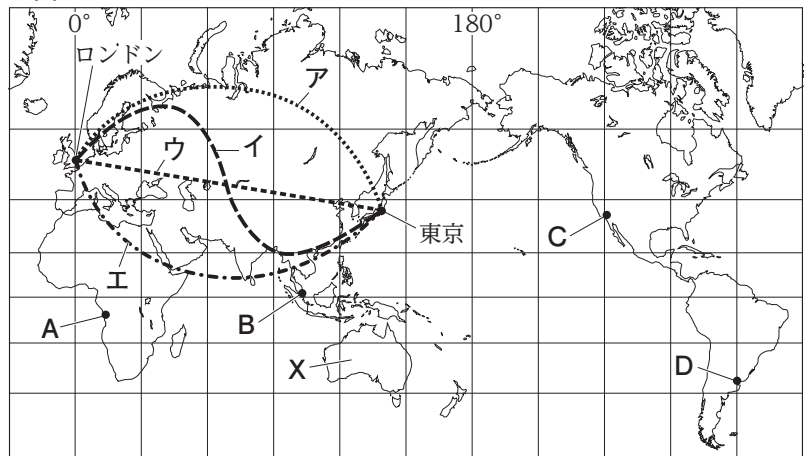
時差…経度差 15 度で 1 時間の時差。

入試演習

1 地図1は緯線と経線が直角に交わる地図で，経線は等間隔で引かれている。これを見て，次の問いに答えよ。

(1) 地図1では， ほど，面積がより大きく表されている。 にあてはまる内容を，「赤道」の語句を使って書け。
〈愛媛〉
[]

地図1



(2) 地図1中のA～Dの都市のうち，赤道をはさんで反対側に移すと，東京と緯度がほぼ同じになる都市を1つ選び，記号を書け。〈香川〉 []

(3) 地図1中のXは，六大陸の1つである。その大陸名を書け。
〈香川〉 [大陸]

地図2

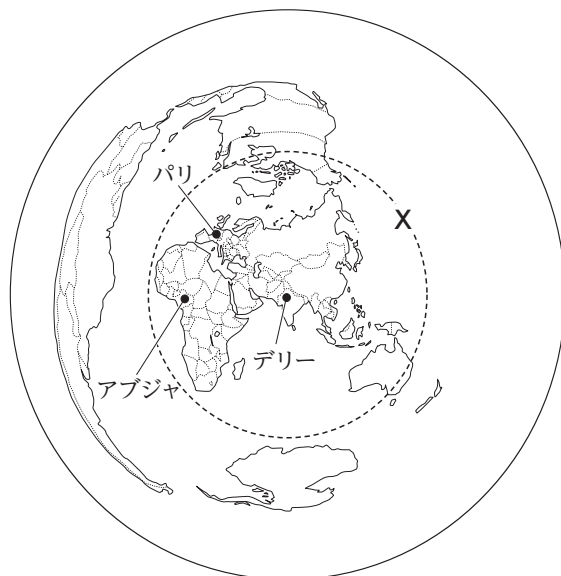


(4) 地図2を参考にして，地図1中のア～エのうち，ロンドンから東京に飛行機で移動するときの最短コースに最も近いものを1つ選び，記号を書け。なお，地図2は，図の中心であるロンドンからの距離と方位が正しく表された地図である。〈長崎〉 []

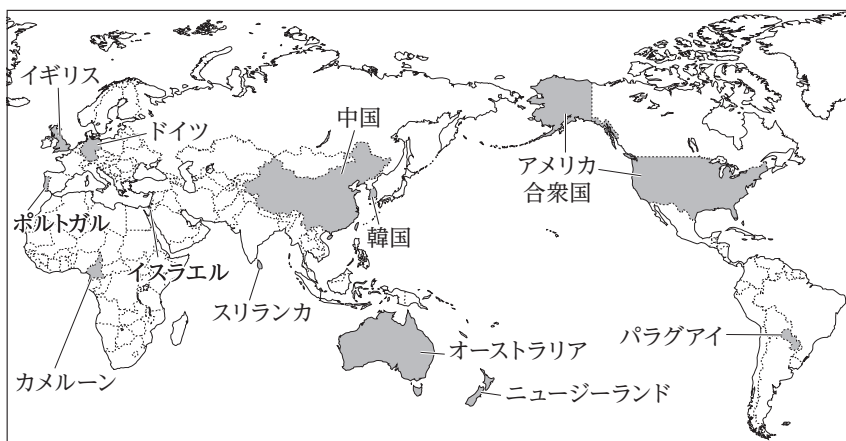
(5) 右下の表は，地図1中のロンドンから東京に向かうある飛行機の，ロンドンを出発した日時をイギリスの標準時で，東京に到着した日時をわが国の標準時で示したものである。この飛行機がロンドンを出発してから東京に到着するまでにかかった時間は，何時何分か。〈香川〉 []

ロンドンを出発した日時	東京に到着した日時
2月9日 19時00分	2月10日 15時50分

- 2** 右の地図は、インドの首都デリーを中心として、中心からの距離と方位を正しく示したもので、地図中の破線Xは、デリーから10000kmの距離を示している。この地図から読み取ることができる内容として適切なものを、次のア～オからすべて選び、記号を書け。〈愛知〉 []
- ア ナイジェリアの首都アブジャは、デリーから見てほぼ西の方位に位置する。
 - イ デリーは、フランスの首都パリから見てほぼ南東の方位に位置する。
 - ウ 北アメリカ大陸の一部は、デリーから10000km以内に位置する。
 - エ 南極大陸の一部は、デリーから10000km以内に位置する。
 - オ 南アメリカ大陸の一部は、デリーから10000km以内に位置する。



- 3** 右の地図中に示された12か国について述べた文として最も適切なものを、次のア～エから1つ選び、記号を書け。〈大分〉 []
- ア 北半球にある国よりも南半球にある国の方が多い。
 - イ 世界の6つの州のいずれにも1か国以上が含まれている。
 - ウ すべての国が日本の標準時より遅れている。
 - エ 熱帯に属する国は1か国も含まれていない。



- 4** 次の文は、日本の国土と標準時についてまとめたノートの一部である。文中の [a] ~ [c] にあてはまる語句の正しい組み合わせを、あとのア～エから1つ選び、記号を書け。〈高知〉 []

日本では、兵庫県明石市を通る東経 [a] の経線を基準として国内の時刻を定めている。日本の国土は、東西の経度の差が約 [b] あるため、国土の東端に位置する南鳥島の日の出の時刻は、国土の西端に位置する [c] の日の出よりも約2時間早い。

- ア a-140度 b-30度 c-沖ノ鳥島
- イ a-140度 b-15度 c-与那国島
- ウ a-135度 b-30度 c-与那国島
- エ a-135度 b-15度 c-沖ノ鳥島

- 5** 右の表は、排他的経済水域の面積（領海を含む）について示したものであり、P、Q、Rには、日本、アメリカ合衆国、ブラジルのいずれかがあてはまる。P、Q、Rにあてはまる国の正しい組み合わせを、次のア～エから1つ選び、記号を書け。〈栃木〉 []
- ア P-日本 Q-アメリカ合衆国 R-ブラジル
 - イ P-日本 Q-ブラジル R-アメリカ合衆国
 - ウ P-アメリカ合衆国 Q-日本 R-ブラジル
 - エ P-ブラジル Q-日本 R-アメリカ合衆国

国名	排他的経済水域の面積 (万 km ²)	領土の面積を1とした場合の排他的経済水域の面積
P	762	0.78
Q	447	11.76
R	317	0.37

(「地理統計要覧」ほか)