

# 1 世界の地域構成

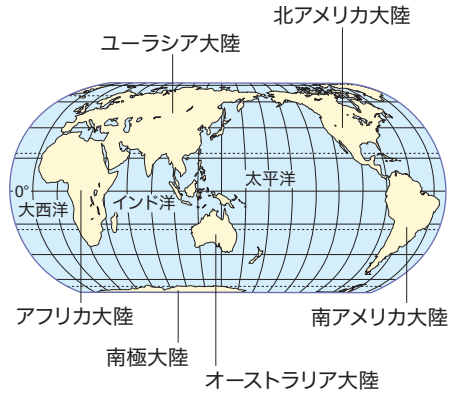
## A 地球のすがた

- (1) 地球の周囲の距離…約 4 万km。
- (2) 海洋と陸地…海洋の面積：陸地の面積 = 7 : 3。  
陸地が最も広い陸半球と、海洋が最も広い水半球。  
海洋：陸地 = 1 : 1 海洋：陸地 = 9 : 1
- (3) 三大洋…面積の大きい順に、太平洋、大西洋、インド洋。海洋全体の約90%を占める。≫ ①
- (4) 六大陸…面積の大きい順に、ユーラシア大陸、西にヨーロッパ、東にアジアがある アフリカ大陸、北アメリカ大陸、南アメリカ大陸、南極大陸、オーストラリア大陸。≫ ①  
どの国の領土でもない オーストラリア1国で1つの大陸を占める
- (5) 緯度…赤道を緯度0度として南北に90度ずつ。  
赤道に平行な線が緯線。赤道より北が北緯、南が南緯。気温は高緯度地域で低く、低緯度地域で高い。高緯度地域では夏至のころ白夜となる。≫ ②
- (6) 経度…ロンドンを通る本初子午線を経度0度として東西に180度ずつ。北極点と南極点を結んだ線が経線。本初子午線より東が東経、西が西経。≫ ②  
イギリスの首都
- (7) 季節…地球は地軸が傾いて公転しているため、太陽の周りを回ること 季節が生じる。北半球と南半球では季節が逆。

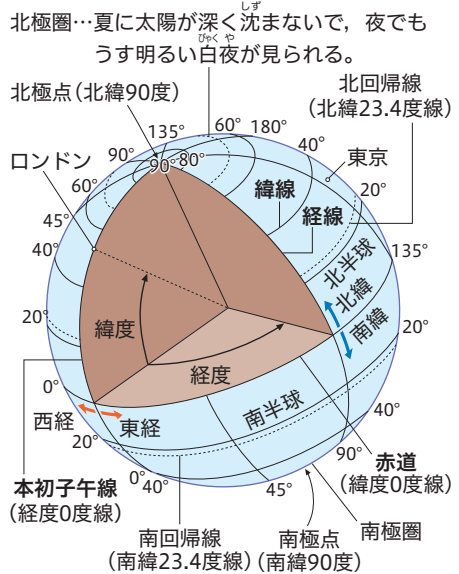
## B 地球儀とさまざまな地図

- (1) 地球儀…地球をそのまま縮めた模型。形、面積、方位、距離、角度のすべてがほぼ正しく表される。
- (2) 地図…1枚ですべてを正確に表すことはできない→目的に合った種類の地図を選んで利用する。
  - ① 緯線と経線が直角に交わった地図…メルカトル図法など。角度が正しいが、高緯度ほど実際より面積が大きく表される。航海図などに利用。
  - ② 面積が正しい地図…モルワイデ図法など。高緯度ほど形がゆがむ。分布図などに利用。
  - ③ 中心からの距離と方位が正しい地図…正距方位図法。中心とある地点を結んだ直線がその2点間の最短コース。中心以外の2点間では最短ではない 航空図などに利用。≫ ③
- (3) 世界の略地図をかく…赤道、本初子午線、経度180度の経線をかく→5大陸のおおまかな形をかく。  
南極大陸以外

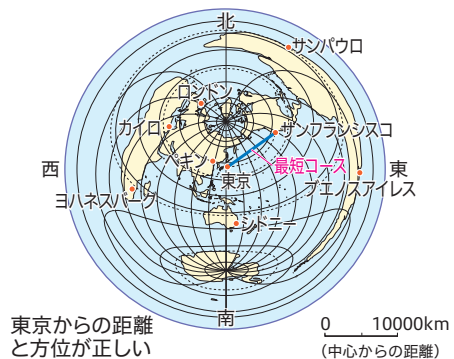
### ① 三大洋と六大陸



### ② 地球上の位置



### ③ 中心からの距離と方位が正しい地図



一問一答 次の問いに答えなさい。Bは( )にあてはまる語句を書きなさい。

**A 地球のすがた**

- |   |    |      |
|---|----|------|
| ① 地球の一周の長さは、約何万kmか。   | ①約 | 万 km |
| ② 地球の「海洋の面積」対「陸地の面積」の比は、何対何か。                                   | ②  | 対    |
| ③ 0度の緯線を特に何というか。  | ③  |      |
| ④ 高緯度地域で夏至のころに見られる、夜でも太陽が完全に沈ま<br>ず <u>うす明るい状態が続く現象</u> を何というか。 | ④  |      |
| ⑤ 0度の経線を特に何というか。  | ⑤  |      |

**B 地球儀とさまざまな地図**

- |                                  |   |  |
|----------------------------------|---|--|
| ⑥ 地球をそのまま縮めた模型を( )という。           | ⑥ |  |
| ⑦ メルカトル図法は、( )と経線が直角に交わっている。     | ⑦ |  |
| ⑧ モルワイデ図法は、( )が正しく表されている。        | ⑧ |  |
| ⑨ 正距方位図法は、中心からの( )と方位が正しく表されている。 | ⑨ |  |

**C 世界の地域区分**

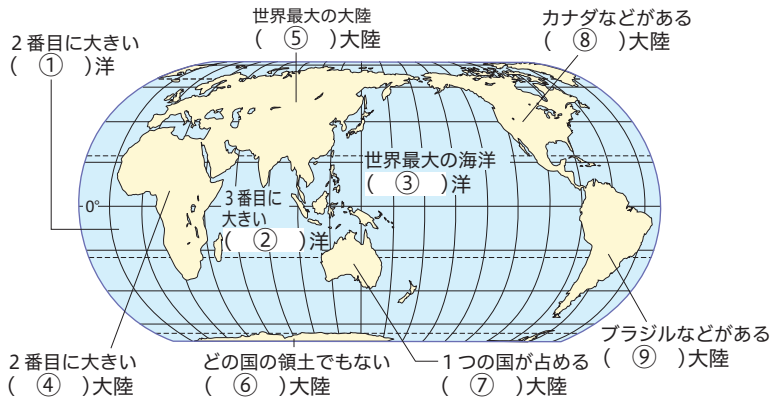
- |  |    |     |
|--|----|-----|
| ⑩ 世界の独立国のおよその数を、次から1つ選べ。<br>約 [ 100      150      200      250 ] | ⑩約 |     |
| ⑪ 独立国の要素は、領土・主権と、もう1つは何か。  | ⑪  |     |
| ⑫ 世界の国々は、いくつの州に区分されるか。   | ⑫  | つ   |
| ⑬ アジア州を地域分けしたとき、日本は何アジアに属するか。                                    | ⑬  | アジア |
| ⑭ アジア州を地域分けしたとき、タイは何アジアに属するか。                                    | ⑭  | アジア |
| ⑮ アジア州を地域分けしたとき、サウジアラビアは何アジアに属<br>するか。                           | ⑮  | アジア |

**D さまざまな国々**

- |  |   |  |
|--|---|--|
| ⑯ 海に面していない国のことを何というか。  | ⑯ |  |
| ⑰ 海に面していない国を、次から1つ選べ。<br>[ フランス      モンゴル      ブラジル      エジプト ]            | ⑰ |  |
| ⑱ 海に囲まれている国のことを何というか。  | ⑱ |  |
| ⑲ 海に囲まれている国を、次から1つ選べ。<br>[ スイス      ベトナム      フィリピン      ポリビア ]            | ⑲ |  |
| ⑳ ヨーロッパ州にある、長ぐつの形をした国はどこか。   | ⑳ |  |
| ㉑ スペイン語で「赤道」の意味をもつ国名を、次から1つ選べ。<br>[ アメリカ      エクアドル      シンガポール      インド ] | ㉑ |  |

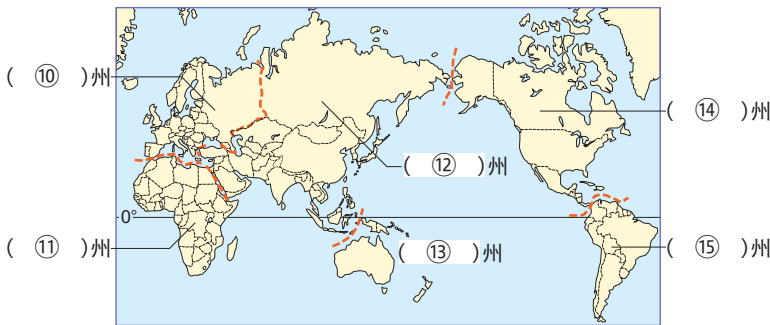
**図表整理** ( )にあてはまる語句を書きなさい。

[世界の三大洋と六大陸]



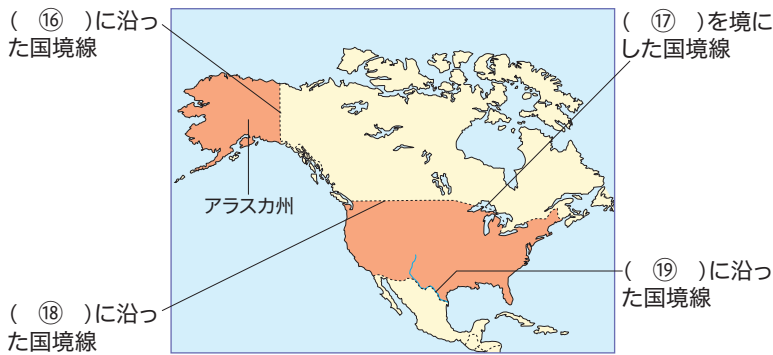
- ① \_\_\_\_\_ 洋
- ② \_\_\_\_\_ 洋
- ③ \_\_\_\_\_ 洋
- ④ \_\_\_\_\_ 大陸
- ⑤ \_\_\_\_\_ 大陸
- ⑥ \_\_\_\_\_ 大陸
- ⑦ \_\_\_\_\_ 大陸
- ⑧ \_\_\_\_\_ 大陸
- ⑨ \_\_\_\_\_ 大陸

[6つの州]



- ⑩ \_\_\_\_\_ 州
- ⑪ \_\_\_\_\_ 州
- ⑫ \_\_\_\_\_ 州
- ⑬ \_\_\_\_\_ 州
- ⑭ \_\_\_\_\_ 州
- ⑮ \_\_\_\_\_ 州

[アメリカ合衆国の国境線]



- ⑯ \_\_\_\_\_
- ⑰ \_\_\_\_\_
- ⑱ \_\_\_\_\_
- ⑲ \_\_\_\_\_

**記述へのステップ!** 次の問いに答えなさい。

□◆ アフリカや北アメリカには、他の地域と比べて、どのような国境線が多いか。次の語句を使って書け。

[ 緯線 経線 直線 ]

( )





